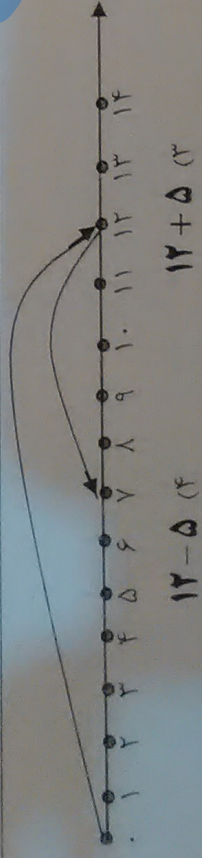


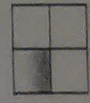








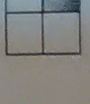





۳۱	رضا ۷ ساله است. خواهرش ۵ سال از او بزرگ تر است. خواهر رضا چند سال دارد؟ سال ۱۳ (۱)
۳۲	احمد دیروز ۲ بسته ده تایی کاغذ رنگی خرید، او با ۷ برگ از کاغذ ها کار دستی درست کرد. حالا احمد چند کاغذ رنگی دارد؟ کاغذ رنگی ۱۳ (۴)
۳۳	در الگوی رو به رو چه عددی قرار می گیرد؟ ۲۲ (۲) ۲۳ (۱)
۳۴	ساعت ۴ است. یک ساعت و ربع دیگر ساعت چند است؟ ۲۱ (۳)
۳۵	اگر سه دسته ی ده تایی به عدد ۳۲۸ اضافه کنیم؟ چه عددی به دست می آید؟ ۳۵۸ (۴) ۳۴۸ (۳) ۳۳۸ (۲) ۳۱۸ (۱)
۳۶	حاصل عبارت رو به رو چه عددی است؟ $6 + 10 + 30 + 10 - 5 =$ ۵۰ (۴) ۵۱ (۳) ۶۰ (۲) ۶۱ (۱)
۳۷	سعید برای خرید یک مداد تراش ۴۰ ریالی و ۲ پاک کن ۳۰ ریالی، باید چند ریال به فروشنده بدهد؟ ریال ۱۰۰ (۴) ۹۰ (۳) ۸۰ (۲) ۷۰ (۱)
۳۸	با رقم های (۳، ۶، ۸) عددی بنویس که رقم یکان آن از رقم دهگانش بیش تر و رقم دهگان آن از رقم صدگانش کم تر باشد ۸۹۳ (۴) ۳۸۶ (۳) ۸۳۶ (۲) ۳۶۸ (۱)
۳۹	کدام گزینه مربوط به محور است؟  ۱۲ - ۵ (۴) ۱۲ + ۵ (۳) ۱۲ + ۷ (۲) ۱۲ - ۷ (۱)
۴۰	شکل بعدی الگوی رو به رو کدام است؟               

موفق و سربلند باشید

